

# 淡江大學九十學年度碩士班招生考試試題

系別：歷史學系

科目：中國通史

准帶項目請打「○」否則打「×」	
計算機	字典

本試題共 3 頁

本試題雙面印製

### 一、閱讀下列三段文字後回答問題

孟子曰：

牛山之木嘗美矣，以其郊於大國也，斧斤伐之，可以為美乎？是其日夜之所息，雨露之所潤，非無萌蘗之生焉；牛羊又從而牧之，是以若彼濯濯也。人見其濯濯也，以為未嘗有材焉，此豈山之性也哉？

《孟子》〈告子〉上，第八章

浙江的一本方志這樣描寫玉米：

止宜去草，不必用肥，是以稅銀數錢，可收苞蘆（玉米）數百擔。初價頗廉，後與穀價不相上下，每百斤可磨粉九十五斤，貧民藉多數日糧，故欠歲食之者多，土著亦效種之。但山中種此，則土鬆石出，每逢大雨，山石隨勢下坍，溪澗墊淤，宣自嘉慶五年大水溪潭，溪砂石堆積水不能畜。職是之故，然山中種苞蘆，十餘年必敗，並不可栽，竹木利盡而害隨之矣。

皮錫瑞等纂，《宣平縣志》（1878）

清台灣北路營參將阮蔡文：

竹塹周環三十里，封疆不大介其中，-----年年捕鹿丘陵比，今年得鹿實無幾。鹿場半被流民間，藝麻之餘兼藝黍。番丁自昔亦躬耕，鐵鋤掘土僅寸許；百鋤不及一犁深，那得盈寧蓄妻子！」

<詠竹塹詩>

以上三段文字都描寫當時生態環境的變遷，請分別說明造成這些環境變遷的時代背景和原因。30%

- 二、起事於道光三十年的太平軍，在革命作戰的非常時期，亦將會眾的女營編入女營，太平軍將女子編入軍事系統的原因何在？有些學者認為太平天國開啓男女平權之先河，其政策值得稱讚；有些學者不以為然，試說明正反兩方的立論基礎。跳脫中國，太平天國的婦女地位與十九世紀中葉的歐洲國家相比又如何？ 20%

◀ 注意背面尚有試題 ▶

# 淡江大學九十學年度碩士班招生考試試題

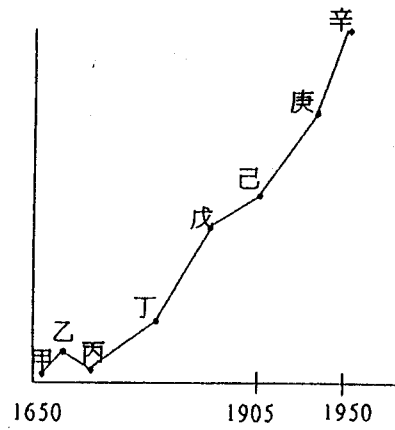
系別：歷史學系

科目：中國通史

准帶項目請打「○」否則打「×」	
計算機	字典

本試題共 3 頁

三、臺灣人口成長曲線圖



- 問題一：由上圖可以觀察到，從十六世紀中葉到二十世紀中葉，臺灣人口曲線大致為成長趨勢，唯有甲到丙人口不增反降，說明其中原因。
- 問題二：解釋由己到庚，由庚到辛，人口大幅成長的原因和時代背景，並分析這兩個階段人口增長性質的差異。 20%

# 淡江大學九十學年度碩士班招生考試試題

系別：歷史學系

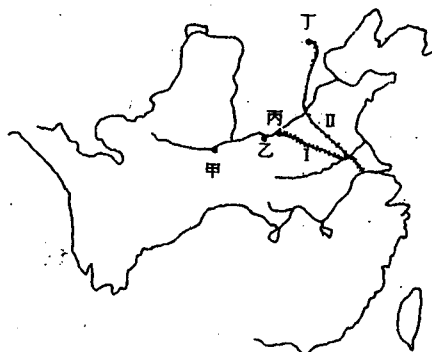
科目：中國通史

准帶項目請打「○」否則打「x」	
計算機	字典

本試題共 3 頁

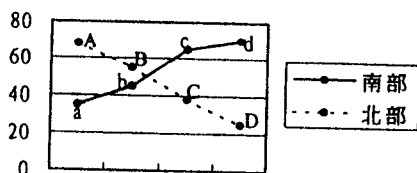
### 四、根據下圖與表回答問題

圖一



(註：甲、乙、丙、丁分別為中國歷史上重要朝代的首都)

圖表二顯示，中國歷代北方人口、南方人口，在全國人口數所佔之比例的變動趨勢圖；其中虛線 (ABCD) 代表北方人口，實線 (abcd) 代表南方人口。



問題一：歷代首都的移動趨勢，與人口比例變動趨勢有何不同？為何首都的位置不隨人口之移動而移動？

問題二：指出圖表二實線虛線交錯的年代、社會背景與人口變動之因。 30%